
Arithmétique des polynômes

Aspects linéaires

Autocorrection A. ✓

Soit $f : \mathbb{C}_3[X] \rightarrow \mathbb{C}_3[X]$ l'application associant à un polynôme P le reste dans la division euclidienne de $(X^4 - 1)P$ par $X^4 + X^2$.

1. Montrer f est un endomorphisme bien défini et donner sa matrice dans la base canonique.
2. Déterminer $\text{rg}(f)$, $\ker(f)$ et $\text{im}(f)$.

Exercice 1. _____

Si $P \in K[X]$, on note $M_P = \{R \in K[X] \mid P \text{ divise } R\}$.

Montrer que M_P est un sous-espace vectoriel de $K[X]$ et en donner un supplémentaire.

Exercice 2⁺⁺. _____ Mines (PSI)

Soit $P \in \mathbb{R}[X]$ un polynôme de degré n et $a_0, a_1, \dots, a_n \in \mathbb{R}$ des scalaires distincts.

Montrer que $(P(X + a_i))_{i=0}^n$ est une base de $\mathbb{R}_n[X]$.

Exercice 3⁺⁺. _____ ÉNS Ulm

Soit $P \in \mathbb{R}[X]$ un polynôme de degré $n > 0$ et $0 \leq k \leq n$.

Montrer que la famille $(1, X, \dots, X^{n-k-1}, P(X), P(X+1), \dots, P(X+k))$ est libre.

Multiplicité, polynômes scindés

Autocorrection B. ✓

Soit $n \geq 3$ et $P = X^{2n+1} - (2n+1)X^{n+1} + (2n+1)X^n - 1 \in \mathbb{R}[X]$. Calculer l'ordre de multiplicité $\mu_1(P)$.

Exercice 4. _____ ✓

Montrer que $\sum_{k=0}^n \frac{X^k}{k!}$ n'a que des racines simples sur \mathbb{C} .

Exercice 5⁺. _____ Mines ✓

Soit $P(X) = nX^n - X^{n-1} - \dots - X - 1$.

Montrer qu'à part 1, les racines de P sont de module < 1 puis que P est à racines simples.

Exercice 6. _____

Soit $n \in \mathbb{N}^*$ et $P \in \mathbb{R}[X]$ de degré n simplement scindé.

Montrer que les racines complexes du polynôme $P^2 + 1$ dans \mathbb{C} sont toutes simples.

Exercice 7⁺. Soit $P \in \mathbb{R}[X]$ simplement scindé. Montrer que P n'a pas deux coefficients consécutifs nuls.

Exercice 8⁺. Soit $P \in \mathbb{R}[X]$ non constant, simplement scindé.
Montrer que pour tout $a \in \mathbb{C}$, les racines complexes de $P - a$ sont de multiplicité au plus 2.

Exercice 9⁺. Soit $P \in \mathbb{R}[X]$ scindé. Montrer que toute racine multiple de P' est racine de P . Ulm

Exercice 10⁺. Soit $P \in \mathbb{R}[X]$ simplement scindé, et $a \in \mathbb{R}$. Montrer que $P' + aP$ est simplement scindé. 🔗

Exercice 11⁺. Soit $d \in \mathbb{N}$.

1. Soit $P \in \mathbb{R}[X]$, unitaire de degré d .
Montrer que P est scindé si et seulement si $\forall z \in \mathbb{C}, |P(z)| \geq |\operatorname{Im}(z)|^d$.
2. Soit $(P_n)_{n \in \mathbb{N}}$ une suite de polynômes unitaires de degré d scindés et $P \in \mathbb{R}[X]$.
On suppose que $\forall k \in \mathbb{N}, \operatorname{coeff}_k(P_n) \xrightarrow{n \rightarrow +\infty} \operatorname{coeff}_k(P)$.
Montrer que P est unitaire, de degré d , et scindé.

Exercice 12⁺⁺. Soit $U, V \in \mathbb{R}[X]$ non constants tels que les racines de $U + iV \in \mathbb{C}[X]$ soient de partie imaginaire > 0 .
Montrer que U et V sont scindés. X🔗

Relations coefficients-racines

Exercice 13. Soit $n \in \mathbb{N}^*$.

Utiliser les relations de Viète pour recalculer $\sum_{\omega \in U_n} \omega$, puis pour calculer $\prod_{\omega \in U_n} \omega$ et $\sum_{\omega \in U_n} \omega^2$.

Exercice 14. Soit $P \in \mathbb{C}[X]$ de degré ≥ 2 . Montrer que la moyenne des racines de P' (comptées avec multiplicité) est la même que celle des racines de P .

Exercice 15. Soit $P \in K[X]$ de degré 3, possédant au moins deux racines dans K . Montrer que P est scindé.

Exercice 16⁺ (Sommes de Newton). 🔗

1. Exprimer $x^2 + y^2 + z^2$ et $x^3 + y^3 + z^3$ en fonction de $\sigma_1 = x + y + z$, $\sigma_2 = xy + xz + yz$ et $\sigma_3 = xyz$.
2. Résoudre le systèmes suivants, d'inconnues $x, y, z \in \mathbb{C}$ (ou \mathbb{C}^*) :

$$\begin{cases} x + y + z = 1 \\ \frac{1}{x} + \frac{1}{y} + \frac{1}{z} = 1 \\ xyz = -4. \end{cases} \quad \begin{cases} x + y + z = 2 \\ x^2 + y^2 + z^2 = 14 \\ x^3 + y^3 + z^3 = 20. \end{cases}$$

Exercice 17⁺. ✓

On note $\cot : x \mapsto \frac{\cos x}{\sin x}$ la fonction cotangente.

1. Montrer l'existence d'un polynôme $P_n \in \mathbb{R}_n[X]$ tel que $\forall t \in]0, \frac{\pi}{2}[$, $P_n(\cot^2 t) = \frac{\sin((2n+1)t)}{\sin^{2n+1} t}$.
2. Déterminer les racines de P_n et calculer leur somme.
3. Montrer que $\forall t \in]0, \frac{\pi}{2}[$, $\cot^2 t \leq \frac{1}{t^2} \leq 1 + \cot^2 t$ et en déduire la valeur de $\zeta(2) = \lim_{n \rightarrow +\infty} \sum_{k=1}^n \frac{1}{k^2}$.

Arithmétique et racines

Autocorrection C. ✓

Résoudre les quatre équations suivantes, d'inconnue $(A, B) \in \mathbb{R}[X]^2$:

- (i) $(X^4 - X^3 - X^2 - X - 2)A + (X^3 - 7X - 6)B = 1$;
- (ii) $(X^4 - X^3 - X^2 - X - 2)A + (X^3 - 7X - 6)B = X + 3$;
- (iii) $(X^2 + 2X + 3)A + (X^2 - X - 3)B = 0$;
- (iv) $X^2A + (2X + 1)B = X + 2$.

Autocorrection D. ✓

Montrer par deux méthodes différentes que X^2 divise $(X + 1)^n - nX - 1$ pour tout $n \in \mathbb{N}$.

Exercice 18. ✓

1. Soit $P \in K[X]$. Montrer que $P - X$ divise $P \circ P - X$.
2. Résoudre dans \mathbb{C} l'équation $(z^2 + 3z + 1)^2 + 3z^2 + 8z + 4 = 0$.

Exercice 19. ✓

Dans les trois questions suivantes, on donne deux polynômes $P, Q \in \mathbb{C}[X]$, et on demande de déterminer le reste de P dans la division euclidienne par Q .

- (i) $P = X^{100}$ et $Q = (X - 1)^3(X + 1)$;
- (ii) $P = X^{2n}$ et $Q = (X^2 + 1)^2$;
- (iii) $P = (X + 1)^{2n+1} - X^{2n+1}$ et $Q = X^2 + X + 1$.

Exercice 20. ✓

Trouver tous les couples $(\lambda, \mu) \in K^2$ tels que le polynôme $X^2 + 2$ divise $X^4 + X^3 + \lambda X^2 + \mu X + 2$.

Exercice 21. ✓

Trouver les $a \in \mathbb{C}$ tels que le polynôme $X^4 - X + a$ soit divisible par $X^2 - aX + 1$.

Exercice 22. ✓

Déterminer tous les polynômes $P \in \mathbb{R}[X]$ tels que $P = P'P''$.

Exercice 23. ✓

Soit $P, Q \in \mathbb{C}[X]$ et $m \in \mathbb{N}^*$. Montrer que $P \mid Q \Leftrightarrow P(X^m) \mid Q(X^m)$.

Exercice 24. ✓

Pour tout $n \in \mathbb{N}^*$, on considère le polynôme complexe $P_n = X^n - 1$. Soit $a, b \geq 2$.

1. Montrer que $a \mid b$ si et seulement si $P_a \mid P_b$.
2. Montrer que $a \perp b$ si et seulement si $P_a P_b \mid (X - 1)P_{ab}$.

Exercice 25. _____

Déterminer $P \in \mathbb{R}[X]$ de degré 5 tel que

$$(X-1)^3 \mid P+1 \quad \text{et} \quad (X+1)^3 \mid P-1.$$

Exercice 26⁺. _____

Soit $P \in \mathbb{C}[X]$ de degré $d \geq 1$, que l'on identifie à sa fonction polynomiale $\mathbb{C} \rightarrow \mathbb{C}$.

1. Soit $y \in \mathbb{C}$. Montrer que y possède $d - \deg((P-y) \wedge P')$ antécédents par f .
2. En déduire que, pour toute partie finie V de \mathbb{C} ,

$$d(|V|-1) < |P^{-1}[V]| \leq d|V|$$

et donner des exemples démontrant que cet encadrement est optimal.

Exercice 27⁺. _____

Soit K un corps de caractéristique nulle. Déterminer $\{P \in K[X] \mid P' \text{ divise } P\}$.

Questions d'irréductibilité

Exercice 28⁺. _____ *Ulm*

1. Soit $P \in \mathbb{Q}[X]$ irréductible. Montrer que P n'a pas de racine double dans \mathbb{C} .
2. Soit $P \in \mathbb{Q}[X]$ de degré 5, possédant une racine double dans \mathbb{C} . Montrer que P a une racine rationnelle.

Exercice 29⁺⁺ (Premier contact avec les polynômes cyclotomiques). _____

1. Soit p un nombre premier. Montrer qu'il existe $\Phi_p \in \mathbb{Z}[X]$ tel que $X^p - 1 = (X-1)\Phi_p(X)$.
2. Calculer $\Phi_p(X+1)$ et en déduire que Φ_p est un polynôme irréductible de $\mathbb{Q}[X]$.
3. Écrire le polynôme $X^{2p} - 1$ comme produit de polynômes irréductibles de $\mathbb{Q}[X]$.
4. Montrer qu'il existe $\Phi_{p^2} \in \mathbb{Z}[X]$ tel que $X^{p^2} - 1 = (X-1)\Phi_p(X)\Phi_{p^2}(X)$.
 - (a) Factoriser $\Phi_{p^2}(X)$ dans $\mathbb{C}[X]$.
 - (b) Montrer que $\Phi_{p^2}(X)$ est irréductible dans $\mathbb{Q}[X]$.
5. Soit $k \in \mathbb{N}^*$. Factoriser $X^{p^k} - 1$ dans $\mathbb{Q}[X]$.
6. Trouver le plus petit entier $n \in \mathbb{N}^*$ tel que $X^n - 1$ n'ait pas été factorisé dans $\mathbb{Q}[X]$ lors des questions précédentes, et factoriser ce polynôme.

Exercice 30. _____

Déterminer tous les polynômes irréductibles de $\mathbb{F}_2[X]$ de degré ≤ 4 .

Exercice 31. _____

Soit $b, c \in \mathbb{Z}$ et p un nombre premier impair. Montrer que $X^2 + bX + c$ est irréductible dans $\mathbb{F}_p[X]$ si et seulement si $[b^2 - 4c]_p$ n'est pas un carré dans \mathbb{F}_p .

Exercice 32⁺⁺.

1. Soit p un nombre premier.

(a) Montrer que $\{x^2 \mid x \in \mathbb{F}_p^\times\}$ est un sous-groupe du groupe multiplicatif \mathbb{F}_p^\times , et déterminer son cardinal.

(b) En déduire qu'au moins l'une des classes $[-1]_p$, $[2]_p$ et $[-2]_p$ est un carré dans \mathbb{F}_p .

2. Montrer que $X^4 + 1$ est un polynôme irréductible dans $\mathbb{Q}[X]$, mais que, quel que soit p premier, $X^4 + 1$ est réductible dans $\mathbb{F}_p[X]$.

Factorisations**Autocorrection E.**

Donner la factorisation dans $\mathbb{C}[X]$, puis dans $\mathbb{R}[X]$, des polynômes suivants :

(i) $X^2 + X + 1$;

(iv) $X^6 + 27$;

(ii) $X^4 - 4$;

(v) $(X^2 - X + 1)^2 + 1$;

(iii) $X^4 + 1$;

(vi) $X^5 - 10X^4 + 25X^3 - 25X^2 + 10X - 1$;

(vii) $X^3 - 8X^2 + 23X - 28$, en sachant que la somme de deux des racines est égale à la troisième ;

(viii) $X^4 + 12X - 5$, en sachant qu'il y a deux racines dont la somme vaut 2.

Exercice 33.

On considère le polynôme $P = (1 - X^2)^3 + 8X^3$.

1. Déterminer les solutions complexes de l'équation $\left(\frac{1 - z^2}{2z}\right)^3 = -1$.

2. En déduire la factorisation du polynôme P dans \mathbb{C} , puis dans \mathbb{R} .

Exercice 34.

Soit $\alpha \in]0, \pi[$ et $n \in \mathbb{N}$. Factoriser $X^{2n} - 2 \cos(n\alpha)X^n + 1$ dans $\mathbb{C}[X]$ puis dans $\mathbb{R}[X]$.

Exercice 35.

Déterminer tous les polynômes $P \in \mathbb{C}[X]$ tels que $P(X^2) = P(X)P(X - 1)$.

Exercice 36⁺.

Si K est un corps, on note \mathcal{M}_K l'ensemble des polynômes unitaires irréductibles de K .

On appelle *valuation (discrète, normalisée)* sur un anneau A une application surjective $v : A \rightarrow \mathbb{N} \cup \{+\infty\}$ vérifiant les axiomes

(i) $\forall x \in A, v(x) = +\infty \Leftrightarrow x = 0$;

(ii) $\forall x, y \in A, v(xy) = v(x) + v(y)$;


(iii) $\forall x, y \in A, v(x + y) \geq \min(v(x), v(y))$.


1. Soit $P \in \mathcal{M}_K$. Définir une « valuation P -adique » $v_P : K[X] \rightarrow \mathbb{N} \cup \{+\infty\}$, c'est-à-dire une valuation sur $K[X]$ telle que $v_P(P) = 1$.

2. Réciproquement, montrer que toute valuation sur $K[X]$ est une des valuations construites à la question précédente.

3. Soit $P \in \mathcal{M}_{\mathbb{C}}$. Montrer que la restriction $(v_P)|_{\mathbb{R}[X]}$ est une valuation sur $\mathbb{R}[X]$, et expliciter dans ce cas la conclusion de la question précédente.

Mélange

Exercice 37. Trouver les polynômes $P \in \mathbb{C}[X]$ tels que P et $P \circ P$ aient exactement les mêmes racines. 

Exercice 38⁺. Déterminer les $(P, Q) \in \mathbb{C}[X]^2$ tels que $\forall z \in \mathbb{C}, |P(z)| \leq |Q(z)|$. 

Exercice 39⁺.  

1. Soit $\mathcal{S} = \{A^2 + B^2 \mid A, B \in \mathbb{R}[X]\}$. Montrer que \mathcal{S} est stable par produit.
2. Soit $P \in \mathbb{R}[X]$. Montrer l'équivalence $P \in \mathcal{S} \Leftrightarrow \forall x \in \mathbb{R}, P(x) \geq 0$.

Exercice 40⁺⁺. Soit $P \in \mathbb{R}[X]$. Montrer $(\forall x \in \mathbb{R}_+, P(x) \geq 0) \Leftrightarrow (\exists A, B \in \mathbb{R}[X] : P = A^2 + XB^2)$.


Exercice 41⁺⁺. Soit $P, Q \in \mathbb{Z}[X]$ sans racine complexe commune. Montrer que $(P(n) \wedge Q(n))_{n \in \mathbb{N}}$ est périodique. 

Exercice 42⁺ (Théorèmes de Mason-Stothers et de Liouville). Dans cet exercice, on note n_P le nombre de racines complexes de tout polynôme $P \in \mathbb{C}[X]$.

Soit A, B et C trois polynômes premiers entre eux dans leur ensemble et tels que le produit ABC ne soit pas constant.

Nous allons montrer que si $A + B + C = 0$, alors $n_{ABC} \geq 1 + \max(\deg A, \deg B, \deg C)$ (théorème de Mason-Stothers, 1981). On suppose donc dans la suite $A + B + C = 0$.

1. Montrer que A, B et C sont deux à deux premiers entre eux.
2. On définit $P = AB' - A'B$.
 - (a) Montrer que pour toute racine z de A , $\mu_z(P) \geq \mu_z(A) - 1$.
 - (b) Montrer $\deg P \geq \deg(ABC) - (n_A + n_B + n_C)$.
3. Conclure la démonstration du théorème de Mason-Stothers.
4. **Application.** Soit $n \geq 3$. Résoudre l'équation $x^n + y^n = z^n$, d'inconnues $x, y, z \in \mathbb{C}[X]$. (Ce résultat a été obtenu par Liouville en 1879).

Exercice 43⁺. Soit $P \in \mathbb{R}[X]$ un polynôme de degré $n \geq 1$. 

1. Montrer que si P est simplement scindé, alors $\forall j \in \llbracket 1, n-1 \rrbracket, \forall x \in \mathbb{R}, P^{(j)}(x)^2 > P^{(j-1)}(x)P^{(j+1)}(x)$.
2. Soit $Q \in \mathbb{R}[X]$ tel que $\forall x \in \mathbb{R}, Q'(x)^2 > Q(x)Q''(x)$. Montrer
 - ▶ que les racines réelles de Q sont simples, et qu'il en possède au moins une;
 - ▶ que Q' possède exactement une racine de moins que Q , et les localiser.
3. Montrer la réciproque de la première question.

Exercice 44⁺ (Théorème de De Bruijn).

Soit $a \leq b \leq c$ et $A \leq B \leq C$ des entiers ≥ 1 . On s'intéresse dans cet exercice à la possibilité de paver un pavé de taille $A \times B \times C$ par des briques de taille $a \times b \times c$. Donnons des définitions précises.

- ▶ Une *brique* est une partie de \mathbb{N}^3 de la forme $\mathcal{B} = \llbracket x, x' \rrbracket \times \llbracket y, y' \rrbracket \times \llbracket z, z' \rrbracket$.
- ▶ La *taille* d'une telle brique sera le triplet de ses trois « dimensions » $x' - x + 1, y' - y + 1, z' - z + 1$, rangées par ordre croissant. Par exemple, $\llbracket 3, 5 \rrbracket \times \llbracket 1, 6 \rrbracket \times \llbracket 2, 4 \rrbracket$ est une brique de taille $(3, 3, 6)$.
- ▶ On se demande si le pavé $P = \llbracket 1, A \rrbracket \times \llbracket 1, B \rrbracket \times \llbracket 1, C \rrbracket$ de taille (A, B, C) peut s'écrire comme union disjointe de briques de taille (a, b, c) : on dira alors pour simplifier que P est (a, b, c) -pavable.

1. Montrer que le pavé de taille $(5, 6, 6)$ n'est pas $(1, 2, 4)$ -pavable.

Étant donné une partie finie $E \subseteq \mathbb{N}^3$, on définit son *poids* $w(E) = (X - 1)^3 \sum_{(i,j,k) \in E} X^{i+j+k} \in \mathbb{R}[X]$.

2. Calculer le poids $w(P)$ du pavé $P = \llbracket 1, A \rrbracket \times \llbracket 1, B \rrbracket \times \llbracket 1, C \rrbracket$.
3. Montrer que si P est (a, b, c) -pavable, alors $(X^a - 1)(X^b - 1)(X^c - 1) \mid w(P)$.
4. Montrer que le pavé de taille $(10, 10, 10)$ n'est pas $(1, 2, 4)$ -pavable
5. Montrer que le pavé de taille $(7, 8, 9)$ n'est pas $(1, 2, 4)$ -pavable.
6. Montrer le *théorème de De Bruijn* (1969) : si a divise b et b divise c , alors P est (a, b, c) -pavable si et seulement si, quitte à échanger A, B et C , on a $a \mid A, b \mid B$ et $c \mid C$.